

Всероссийская олимпиада школьников по технологии
«Культура дома и декоративно-прикладное искусство»
9 класс

Теоретическая часть
Время выполнения работы – 45 минут
Задания в тестовой форме

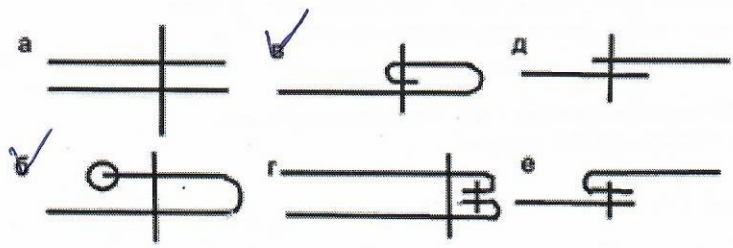
Максимальное количество баллов – 35 (24 вопроса оцениваются по одному баллу за каждый правильный ответ + 11 баллов за творческое задание). Задание считается выполненным, если в нём не допущено ни одной ошибки. Наличие лишнего ответа также считается ошибкой

I. Отметьте один правильный ответ. (Задание в закрытой форме)

- 1 + 1. В поисково-исследовательский этап творческого проекта не входит...
а) выбор темы проекта
б) сбор информации по теме проекта
в) выбор наилучшей идеи и её исследование
г) изготовление материальной части проекта
- 1 + 2. Устройство для передачи и преобразования движения...
а) машина б) механизм в) рычаг г) деталь
- 0 - 3. Расширение прямой юбки по линии низа может быть выполнено:
а) увеличением ширины заднего полотнища
б) увеличением ширины переднего полотнища
в) закрытием вытачек по линии талии
г) дополнительными разрезами
- 0 - 4. Общность людей, которые ведут единое хозяйство, являются потребителями и работниками и платят государству налоги – это...
а) предприятие б) семья в) фирма г) трудовой коллектив
- 1 + 5. На сколько рублей подешевело швейное изделие стоимостью 1100 рублей, если при распродаже на него была скидка 10%...
а) 11 руб. б) 110 руб. в) 100 руб. г) 10 руб.
- 0 - 6. Для максимального сохранения в картофеле минеральных солей при тепловой обработке его следует:
а) жарить б) запекать в) варить в кожуре г) варить на пару д) варить в воде
- 1 + 7. В соответствии с формулой «хочу» - «могу» - «надо» определите рациональную последовательность действий для выбора профессии...
а) выяснить свои профессиональные интересы, склонности и способности
б) изучить выбранную профессию, узнать пути её приобретения
в) узнать какие профессии требуются на рынке труда в городе, области
- 1 + 8. Текстильное волокно абака — это...
а) пух горной козы б) шерсть викуньи в) многолетние травянистые растения
- 1 + 9. Из какого волокна делают не намакающие и не тонущие в воде канаты и рыболовные сети...
а) койр б) рами в) сезаль
- 1 + 10. Какой вид памяти очень важен для модельера...
а) слуховая б) зрительная в) двигательная г) осязательная

II. Отметьте два или более правильных ответов (Задания в закрытой форме)

- 1 + 11. Какие мерки необходимо учитывать при расчете вытачек на прямой юбке:
а) Сш б) Ст в) Сб г) Дтс д) Ди
- 1 + 12. Семена хлопчатника отправляют на производство:
а) ткани б) корма животным в) растительного масла
- 1 ± 13. Юбки по конструкции бывают:
а) диагональные б) прямые в) клинговые г) клешёные
д) конические е) расширенные
- 1 + 14. Выберите швы для обработки нижнего среза юбки:



III. Закончите фразу (Задания в открытой форме)

15. В методе мозговой атаки при разрешении любого рода проблемных ситуаций в зависимости от способностей, участники разделяются на группы фантастические и реальные
16. Художественно оформленные цветочные столики называются перьянами
17. Перечислите признаки, по которым принято классифицировать волокна натуральные и синтетические по составу.
18. Блюдо из яиц, сваренных без скорлупы, называется шпинат на шпите.
19. Шелк обладает наиболее выраженными свойствами такими как устойчивость к воздействию
20. Сырьем для производства вискозного волокна является древесина и целлюлоза.





IV. Задания на установление соответствия

21. Установите соответствие между терминами утюжительных работ и их определениями.

Название термина	Расшифровка термина
А разутюжить	1 уменьшить толщину шва, сгиба или края детали
Б отутюжить	2 разложить припуски шва в разные стороны и закрепить их в этом положении
В заутюжить	3 удалить замины на тканях или деталях изделия
Г приутюжить	4 отогнуть припуски шва на одну сторону и закрепить их в одном положении

А 2, Б 3, В 1, Г 4

22. На рисунках изображены основные части женского русского народного костюма. Установите соответствие рисунков и их названиям.

			
1	2	3	4
А	Б	В	Г
Шугай	Сарафан	Летник	Епанечка

1 В 2 Б 3 А 4 Г

V. Задание на определение последовательности выполнения действий

23. Напишите правильную последовательность, соответствующую этапам производства ткани.

а) ткань, б) волокно, в) волокно очищенное, г) пряжа и нитки, д) волокно прочесанное

д, в, г, з, а.

24. Определите верную технологическую последовательность первичной обработки мяса.

а) обсушивание, б) разделка, в) обвалка, г) обмывание, д) оттаивание

г, з, а, б.